

# Cuadernillo

Aprendizaje Interactivo Claves  
para Medir con Diversión



@TuPortalEducativo



<https://portaleducativo10.com>



[t.me/TuPortalEducativo](https://t.me/TuPortalEducativo)


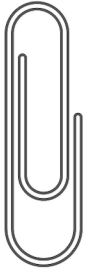


Nombre: \_\_\_\_\_

Fecha:     /     /    

# Vamos a Medir

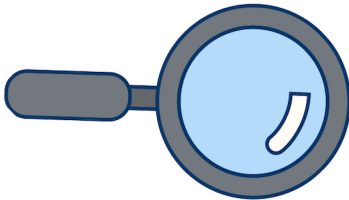
Mida y registre la longitud de cada artículo.



\_\_\_\_\_ cm



\_\_\_\_\_ cm



\_\_\_\_\_ cm



\_\_\_\_\_ cm

Ordena estas longitudes de la más corta a la más larga.

\_\_\_\_\_

200cm

100mm

1 metro

9cm



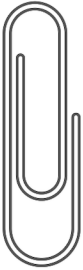


Nombre: \_\_\_\_\_

Fecha:     /     /    

# Vamos a Medir

Mida y registre la longitud de cada artículo.



\_\_\_\_\_ cm



\_\_\_\_\_ cm



\_\_\_\_\_ cm



\_\_\_\_\_ cm

Ordena estas longitudes de la más corta a la más larga.

\_\_\_\_\_

600cm

950mm

3 metro

60cm

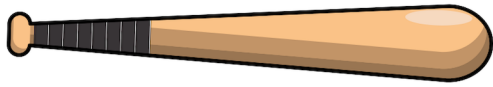

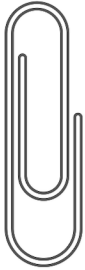


Nombre: \_\_\_\_\_

Fecha:     /     /    

# Vamos a Medir

Mida y registre la longitud de cada artículo.




\_\_\_\_\_ cm



\_\_\_\_\_ cm



\_\_\_\_\_ cm



\_\_\_\_\_ cm

Ordena estas longitudes de la más corta a la más larga.

\_\_\_\_\_

50cm

1000mm

5 metro

15cm




Nombre: \_\_\_\_\_


Fecha:     /     /    

# Vamos a Medir

Mida y registre la longitud de cada artículo.



\_\_\_\_\_ cm



\_\_\_\_\_ cm



\_\_\_\_\_ cm



\_\_\_\_\_ cm

Ordena estas longitudes de la más corta a la más larga.

\_\_\_\_\_

50cm

900mm

6 metro

25cm


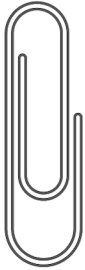


Nombre: \_\_\_\_\_

Fecha:     /     /    

# Vamos a Medir


Mida y registre la longitud de cada artículo.



\_\_\_\_\_ cm



\_\_\_\_\_ cm



\_\_\_\_\_ cm



\_\_\_\_\_ cm

Ordena estas longitudes de la más corta a la más larga.

\_\_\_\_\_

400cm

700mm

1 metro

50cm




Nombre: \_\_\_\_\_

Fecha:     /     /    

# Vamos a Medir


Mida y registre la longitud de cada artículo.



\_\_\_\_\_ cm



\_\_\_\_\_ cm



\_\_\_\_\_ cm



\_\_\_\_\_ cm

Ordena estas longitudes de la más corta a la más larga.

\_\_\_\_\_

500cm

\_\_\_\_\_

600mm

\_\_\_\_\_

2 metro

\_\_\_\_\_

25cm